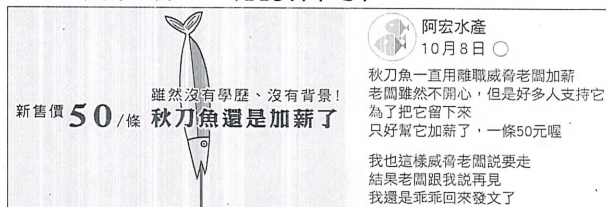


1、單一選擇題（每題5分，共100分）

1. () 下列文句「」中的成語，何者使用最恰當？
(A)為了保家衛國，將士們都是「肆無忌憚」地效命 (B)「一言為定」的兩人，第一次見面就有聊不完的話題 (C)她的容貌美麗，加上氣質又出眾，真可說是「國色天香」 (D)今天家裡來了位「巾幗英雄」，害我們全家出門踏青的計畫泡湯。
2. () 賈伯斯剛滿三十歲不久，便被自家公司解僱，請問當時他的年紀正處於下列何者？
(A)弱冠之年 (B)不惑之年 (C)而立之年 (D)志學之年。
3. () 下列文句，何者省略主語？
(A)王之蔽甚矣(B)熟視之，自以為不如(C)城北徐公 齊國之美麗者也(D)燕 趙 韓 魏聞之，皆朝於齊
4. () 下列「」中的字，何組讀音前後相同？
(A)妊「娠」/海市「蜃」樓 (B)飛揚跋「扈」/石「滬」 (C)「砧」板/「玷」汙 (D)「陷」阱/「諂」媚。
5. () 鄒忌到二十一世紀參加立法委員選舉，高票當選，若要送他一塊匾額，下列哪一個題辭最為恰當？
(A)廣栽桃李 (B)道範長昭 (C)為民喉舌 (D)德必有鄰。
6. () 「吾妻之美我者，私我也；妾之美我者，畏我也；客之美我者，欲有求於我也。」鄒忌這段話在說明下列何者？
(A)自己對妻妾及賓客的情感 (B)妻妾及賓客畏懼齊王的原因 (C)妻妾及賓客奉承他的原因 (D)妻妾與賓客間不可告人的祕密。
7. () 「皆以美於徐公」句中的「於」字，與下列何者同樣是「比」的意思？
(A)是法不信「於」民 (B)苛政猛「於」虎 (C)「於」事無補 (D)謗議「於」市朝。
8. () 下列「」中的形似字，何組讀音相同？
(A)石「滬」/跋「扈」 (B)沾「惹」/「砧」板 (C)「蜃」樓/嘴「脣」 (D)迎「迓」/發「芽」。
9. () 「不要讓別人的雜音淹沒自己的心聲」一句使用了「轉化」修辭，下列何者與此相同？
(A)人生有如一場戰爭，必須全力以赴才是 (B)他的熱情融化了我的心 (C)不在乎天長地久，只在乎曾經擁有 (D)話多不如話少，話少不如話巧。
10. () 羅密歐與茱麗葉樓臺會一文中，「否認你的父親，拋棄你的姓名吧！如果你不願意，那麼只要你宣誓做我的愛人，我將不再是凱普雷特家族的人。」根據這段話可知茱麗葉對自己和羅密歐二人的戀情抱持何種心態？
(A)堅持己見 (B)義無反顧 (C)槁木死灰 (D)虛與委蛇。
11. () 這則粉絲專頁貼文的用意，最可能是下列何者？〔113.會考〕



- (A)徵求粉絲專頁新小編 (B)預告直播促銷的期程 (C)暗示秋刀魚產季將近 (D)宣布調漲秋刀魚價格。
12. () (甲)顛狂柳絮隨風舞，輕薄桃花逐水流(乙)終南陰嶺秀，積雪浮雲端。林表明霽色，城中增暮寒(丙)黃蘆岸白蘋渡口，綠楊堤紅蓼灘頭(丁)納涼時，波漲沙，滿湖香，芰荷蕙葭。甲、乙、丙、丁四句依春、夏、秋、冬的順序排列，下列排序何者正確？
(A)甲乙丙丁 (B)甲丁丙乙 (C)乙丙丁甲 (D)甲丙乙丁。
13. () 下列「」中的字，何者詞性與其他三者「不同」？
(A)「攀」爬高牆 (B)「苟」延殘喘 (C)「染」成銀白 (D)「立」下誓約。
14. () 下列文句「」中的詞語，何者使用最恰當？
(A)她榮獲金馬獎最佳女主角，一掃過去「旱鴨子」的形象 (B)他是個有名的「河東獅」，你要他請客，那簡直是比登天還難 (C)這間半導體公司作為「火車頭」，帶動全球科技業的發展 (D)颱風還沒接近臺灣，各地的「黑馬」已開始胡亂哄抬菜價。
15. () 鄒忌諷齊王納諫文末說：「此所謂戰勝於朝廷。」這是何種語氣？
(A)讚美 (B)批評 (C)感傷 (D)反諷。
16. () 下列「」中的字，何者讀音正確？
(A)「癖」好：ㄆㄧˇ (B)「滁」州：ㄊㄩˊ (C)陶「庵」：ㄊㄠˊ (D)陶「冶」：ㄊㄠˋ
17. () 「倘若還有來生 / 來生我希望成為 / 石滬」這段話使用「頂真」修辭，下列文句何者「沒有」使用頂真修辭
(A)歸來見天子，天子坐明堂 (B)江南可採蓮，蓮葉何田田 (C)出門看火伴，火伴皆驚惶 (D)欲窮千里目，更上一層樓。
18. () 「我們都無法預先把人生的大大小小事件連貫起來，只有日後回顧，才會了解原來一切都是□□□□。」缺空處的詞語宜填入下列何者？
(A)莫名其妙 (B)一氣呵成 (C)水到渠成 (D)出乎意料。
19. () 下列文句「」內的詞語，何者作動詞用？
(A)積久成癮而有某種莫名的「喜愛」或偏好 (B)朋友可以相互「鼓勵」成為人生的真摯情誼 (C)給了心靈一片自在「遨遊」的天空 (D)人不能夠沒有自己的「嗜好」。
20. () 「臨淵羨魚，不如退而結網。」這句話有「二者相較取其一」的用法。下列文句，何者也是相同用法？
(A)路遙知馬力，日久見人心 (B)疾風知勁草，板蕩識忠臣 (C)欲窮千里目，更上一層樓 (D)寧可信其有，不可信其無

新竹市立育賢國民中學114學年度第2學期九年級補考英語科題庫

一、綜合選擇

- (B)) 1. It ___ me one hour to walk from Hsinchu Railway Station(火車站) to Yu-Hsien Junior High School.
(A) costs (B) takes (C) spends (D) pays
- (C)) 2. ___ the English teacher came into the classroom, all the students became quiet.
(A) Until (B) Although (C) As soon as (D) As much as
- (D)) 3. My mother ___ dinner when I walked into the kitchen.
(A) makes (B) made (C) has made (D) was making
- (B)) 4. I was doing my homework ___ my sister was reading a book.
(A) when (B) while (C) because (D) since
- (A)) 5. As long as the weather ___ nice tomorrow, we will go camping in the mountains.
(A) is (B) was (C) will be (D) has been
- (C)) 6. ___ the businessman is rich, ___ he is not happy at all.
(A) Although but (B) Because so
(C) Although X (D) Because X
- (A)) 7. Either you or your brother ___ going to mop the floor this weekend.
(A) is (B) are (C) has (D) will
- (B)) 8. The birthday cake is ___ delicious ___ we can't stop eating it.
(A) too to (B) so that
(C) enough to (D) such that
- (D)) 9. Tom: I have never been to Japan in my life.
Jerry: ___ have I. Maybe we can go together in the future.
(A) So (B) Too (C) Either (D) Neither
- (C)) 10. The student ___ father is from the UK can speak English very well.
(A) who (B) which (C) whose (D) X
- (C)) 11. The math teacher has a sandwich for breakfast every day, and so ___ his sons.
(A) are (B) have (C) do (D) does
- (D)) 12. The book ___ the girl has read for a month is very popular for teenagers in Taiwan.
(A) what (B) in which (C) whose (D) X
- (C)) 13. To solve the problem, it needs to _____ a long time. The situation is worse than what we think.
(A) spend (B) cost (C) take (D) pay
- (D)) 14. To _____ Taiwan winning the first prize at World Baseball Classic, 7-11 has a special: Buy one drink and get one free.
(A) collect (B) check (C) count (D) celebrate
- (B)) 15. Helen read the interesting storybook last Friday, but her brother _____.
(A) did (B) didn't (C) does (D) doesn't
- (D)) 16. In today's running race, the young girl was so far _____ that no other children could run fast enough to pass her.
(A) around (B) along (C) alone (D) ahead
- (A)) 17. The business at Lin's breakfast shop across from the senior high school is not doing well, and it makes things even _____ that fewer and fewer students study at this school each year.
(A) worse (B) better (C) worst (D) best
- (A)) 18. Lily wasn't _____ but cheered herself up to go on. She is really a brave woman.
(A) knocked down (B) blown away (C) stopped from (D) put up with

- (B) 19. _____ of my parents love walking in raincoats on rainy days, but my sister, Anna, hates it very much.
 (A) Two (B) Both (C) One (D) Each
- (B) 20. Sally and Lisa are twins. One of them is good at sports, and _____ is good at languages.
 (A) another (B) the other (C) another one (D) other
- (D) 21. Mrs. White gave most of her money to her son and kept only ___ with her because she knew her son needed it.
 (A) few (B) a few (C) least (D) a little
- (C) 22. Sally: Is it true that _____ a lot of TV makes a person stupid?
 Jean: Yes, it might be true.
 (A) to watch (B) watch (C) watching (D) watched
- (C) 23. Jerry felt _____ because he finally got the starring role (主角) in the play. His family and all his friends are all happy for him.
 (A) boring (B) bored (C) excited (D) exciting
- (D) 24. We have to spend quite a lot of time digging in the scandal (醜聞). The _____ of the problem goes deep and has been hidden for a few years.
 (A) plant (B) seed (C) foot (D) root
- (D) 25. Sam: How often do you give your dog Jimmy a bath?
 John: I seldom do. He cleans _____ several times a day. He likes to stay clean.
 (A) it (B) itself (C) him (D) himself

三、克漏字選擇

(1~6)

(Rosé got a phone call from a man she doesn't know.)

Man: Hello, I am calling from Bank of Taiwan(台灣銀行) _____ 26. _____ you opened your account in last month.

Rosé: Really? Why are you calling me?

Man: We are calling you because of a serious problem. _____ 27. _____, we found that someone is trying to use your account illegally.

Rosé: That sounds terrible. What should I do now?

Man: _____ 28. _____ this serious problem, you have to give us your password right away.

Rosé: That's very unusual. I don't think that the bank workers would ask for the passwords from the customers.

Man: Don't worry about it _____ 29. _____ we are from the bank you can trust.

Rosé: There are many phone scams and I am a little worried.

Man: If you _____ 30. _____ take action, your money will be stolen. Please give us your password, or it will be too late.

Rosé: I won't give you my password because I don't know who you are. Also, a bank worker should not ask for the passwords from the customers.

Man: I am the bank worker _____ 31. _____ job is about customer safety.

Rosé: Even if you say that, I still don't believe you. I will call the bank myself later.

Man: Fine! (The man hangs up.)

account 帳戶 illegally 違法地 password 密碼 unusual 不尋常的 scam 詐騙 safety 安全

32.

We can read lots of news and information online every day. How do you know if the news online _____ 33. _____ true or not? Here are some easy ways to tell if the news you read is fake.

First, check the sources. It's very important that the news comes from a website _____ 34. _____. Besides, be careful with the websites that often have mistakes in their reporting and keep a habit of questioning anything from them.

Second, be careful of unusual headlines while you are reading the news. To catch your eye, fake news often uses exciting headlines such as "World's Strongest Coffee Can Keep You Awake for 28 Hours with Just One Cup" or "Eating Celeries(芹菜) Keeps People Thin." _____ 35. _____ you see those over-the-top headlines, you should know that they may not tell the truth.

Most important of all, check the news by yourself. _____ 36. _____, you can look for the news or headlines on different websites, such as Google or Yahoo, to learn more about the news. You can also talk about the information with your family, friends, or teachers. With their help, you may know more about if it is true or not.

Keep this in mind, it's not always easy to tell if the news is fake. _____ 37. _____ if you follow these tips, you can get closer to the truth.

keep 保持 unusual 不尋常的

- (C) 32.(A) The News and Information Online (B) Different Angles about the Internet
 (C) Simple Ways to Spot Fake News (D) Tips to Deal with Fake Headlines
- (A) 33.(A) is (B) are (C) be (D) X
- (D) 34.(A) who you trust (B) trust you (C) that you trust it (D) you trust
- (A) 35.(A) As soon as (B) As good as (C) Because of (D) Although
- (C) 36.(A) However (B) In that case (C) For example (D) On the other hand
- (B) 37.(A) And (B) But (C) Or (D) So
- (38~42)

Artificial intelligence (AI) is all around us. Smart machines and computers are changing almost all parts of our lives. We now have robots to clean swimming pools and help us drive if we wish. We can talk to our phones now and use AI for all kinds of things. They answer our questions, help us write e-mails, and even make us look better in photos!

When AI is used by the wrong people, ___38___, it could also lead to serious problems. A good example of this is when people use AI to make fake videos or photos. The problem is that the smarter AI gets, the ___39___ it is for the human eye to tell what is real and what is not. These “deepfakes” might be fun to watch if they are about strangers and famous people. But if there is a fake video of you on TikTok doing something really strange, it might not be so “fun” anymore. What’s worse is that AI which can ___40___ a person’s looks or voice can be used to cheat others, and this could be dangerous.

Will AI make big changes to the way we live, work, and have fun? Yes, it will, but there are still risks. ___41___, if young and old can learn to work with AI and to use it for the good of the whole planet, hopefully we will get something from it. The most important thing is not to be ___42___ all these big changes, but to try your best to make the most of them.

- (A) 42.(A) scared of (B) excited about (C) interested in (D) famous for

新竹市立育賢國民中學114學年度第2學期九年級補考數學科題庫

7

(1) 將 $y = -7x^2$ 的圖形向右平移 2 單位，可得到 $y = -7(x-2)^2$ 的圖形。此時圖形的最高點坐標為 (2, 0)。

(2) 將 $y = 4x^2$ 的圖形向左平移 3 單位，可得到 $y = 4(x+3)^2$ 的圖形。此時圖形的最低點坐標為 (-3, 0)。

8

阿明從三樓窗口將硬幣向上拋，拋出 x 秒時，高度距一樓地面 y 公尺，若 x 、 y 的關係式為 $y = -5(x-2)^2 + 15$ ，則：

(1) 此球拋出幾秒後可到達最大高度？

(2) 此球拋出 3 秒後，球距一樓地面多少公尺？

答：(1) 2 秒 (2) 10 公尺

9

某旅行團共有 10 名團員，年齡由小到大排序為 3、22、24、25、25、25、26、26、27、57 歲，則 Q_2 為多少歲？

(A) 25 (B) 25.5 (C) 26 (D) 26.5

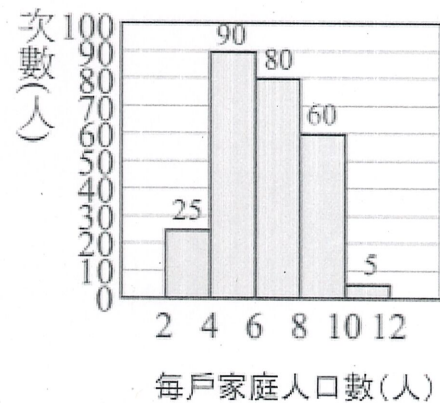
A

10

附圖為某里的每戶家庭人口數的次數分配直方圖，則該組資料的 Q_2 落在哪一組中？

(A) 4~6 人 (B) 6~8 人
(C) 8~10 人 (D) 10~12 人

B



11

1. 有一組數據如下：

70、72、74、76、80、80、80、84、88、92、94、96，

回答下列問題：

(1) 全距為多少？

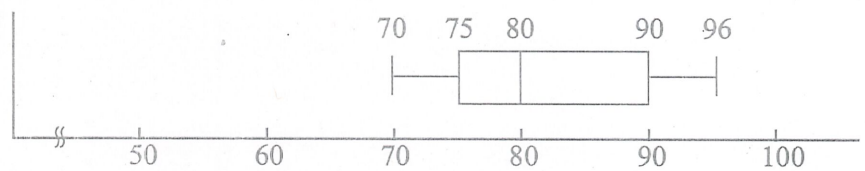
(2) 第1四分位數為多少？

(3) 第2四分位數為多少？

(4) 四分位距為多少？

(5) 繪製盒狀圖。

答：(1) 26 (2) 75 (3) 80 (4) 15 (5)



12

從 1~60 的整數中任取一數，則：

(1) 此數既是 3 的倍數，也是 5 的倍數的機率 = $\frac{1}{15}$ 。

(2) 此數含有「6」這個數字的機率 = $\frac{7}{60}$ 。

13

百貨公司週年慶提供前 200 名入館的顧客抽獎，其中頭獎 1 名，二獎 33 名，三獎 166 名，求：

(1) 前 200 名顧客中抽中三獎的機率是多少？

(2) 在已知前 50 名顧客都沒有抽中頭獎的情況下，第 51 位顧客抽中頭獎的機率是多少？

答：(1) $\frac{83}{100}$ (2) $\frac{1}{150}$

14

已知某家庭人口的年齡由小到大排序是 3、4、7、12、35、38、42、47、63、65 歲。

若其年齡的全距為 x 歲，四分位距為 y 歲，則 $x+y=?$

(A) 100

(B) 102

(C) 103

(D) 104

B

新竹市立育賢國民中學114學年度第2學期九年級補考數學科題庫

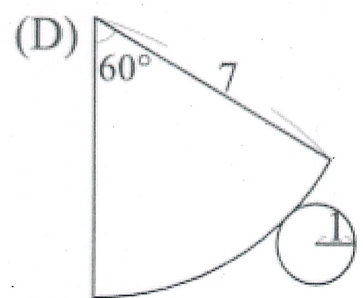
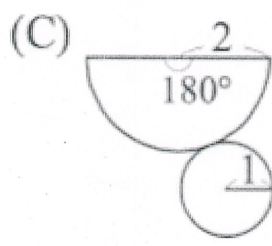
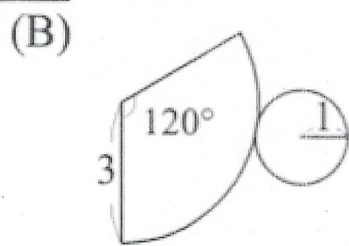
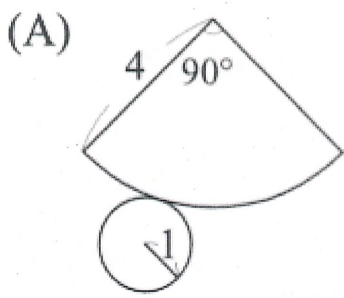
15 從一副撲克牌(不含鬼牌)中任意抽出一張，每張牌被抽出的機會相等，則：

(1) 這張牌不是紅心的機率 = $\frac{3}{4}$ 。

(2) 這張牌的點數小於 5(A 的點數算 1)的機率 = $\frac{4}{13}$ 。

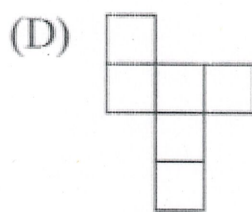
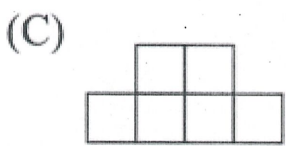
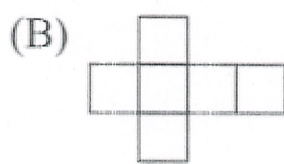
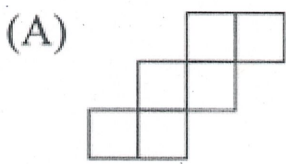
(3) 這張牌既不是紅心且點數又小於 5 的機率 = $\frac{3}{13}$ 。

16 下列哪一個展開圖不能組成圓錐？



D

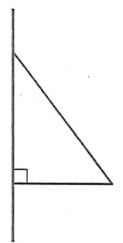
17 下列何者不能組成正方體？



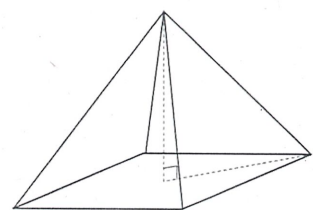
C

18 若有一角柱總共有 9 個面，則此角柱共有 21 條邊，14 個頂點，且此角柱的底面是 七 邊形。

19 將一張底 3 公分，高 4 公分的直角三角形紙片黏在竹筷上，如右圖所示，將竹筷旋轉一周後會得到一個立體圖形，則這個立體圖形的表面積為 24π 平方公分。



20 如右圖，一個底面為正方形的四角錐，其側面為等腰三角形，已知底面正方形的邊長為 10 公分，四角錐高也是 10 公分，則此四角錐的表面積為 $100\sqrt{5} + 100$ 平方公分。

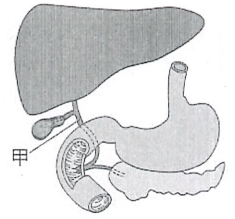


一、選擇題：

1. 生物的組成層次包含細胞、組織、器官、器官系統與個體。大新去市場買了蛤蠣、雞蛋和地瓜葉。已知一般市售雞蛋未經過受精，若依生物的組成層次，將此三者由複雜至簡單依序排列，應為下列何者？

- (A)地瓜葉→雞蛋→蛤蠣 (B)地瓜葉→蛤蠣→雞蛋
(C)蛤蠣→地瓜葉→雞蛋 (D)雞蛋→地瓜葉→蛤蠣。

2. 附圖為人體部分消化器官的示意圖，若小竹體內的甲處發生阻塞，則下列關於他的消化及養分吸收功能，何者最可能發生？ (A)胰液無法排至小腸內 (B)消化脂質的功能下降 (C)胃液無法分解蛋白質 (D)吸收葡萄糖的功能下降。



3. 已知維管束植物可進行某種代謝作用，其反應式為：「甲 + 二氧化碳 → 氧氣 + 乙 + 水」。有關乙的名稱及其在植物體內主要運送的構造，下列何者最合理？

- (A)水，由木質部運送 (B)水，由韌皮部運送 (C)葡萄糖，由木質部運送 (D)葡萄糖，由韌皮部運送。

4. 阿市心臟內的某一個瓣膜不能完全閉合，當他的心室收縮時，其心臟內的減氧血會逆流回心房。根據上述，推測此閉合不全的瓣膜最可能位於下列何處？

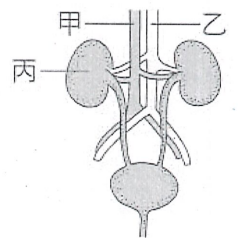
- (A)左心房和左心室之間 (B)右心房和右心室之間 (C)肺靜脈和左心房之間 (D)大靜脈和右心房之間。

5. 小立在吃某道料理時，突然覺得有苦味，於是立刻吐出查看，才知道食物中有苦瓜。根據上述，下列敘述何者最合理？

- (A)立刻吐出是一種反射作用 (B)苦味的感覺受器位於大腦中 (C)突然覺得有苦味是一種反射作用 (D)經由大腦判斷而得知食物中混有苦瓜。

6. 附圖為人體的泌尿系統和其所連接血管的示意圖，其中乙血管中的氧氣含量比甲血管多。有關丙器官的生理功能及血液進出丙的路徑，下列敘述何者正確？

- (A)形成尿素，甲→丙→乙 (B)形成尿素，乙→丙→甲
(C)形成尿液，甲→丙→乙 (D)形成尿液，乙→丙→甲。



7. 附圖為細胞內的某兩對染色體，以甲、乙、丙、丁為代號的示意圖。在正常狀況下，有關細胞進行分裂與分裂時這些染色體分離的敘述，下列何者正確？

- (A)若進行減數分裂，則甲與乙必分離至不同的細胞中 (B)若進行減數分裂，則甲與丁必分離至不同的細胞中
(C)若進行細胞分裂，則乙與丙必分離至不同的細胞中 (D)若細胞進行分裂，則丙與丁必分離至不同的細胞中。

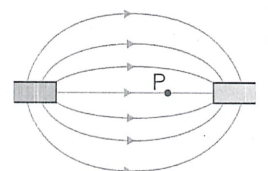


8. 已知 DDT 是一種作為殺蟲劑的化合物，難以被生物代謝。附表為某地區食物鏈中甲、乙、丙、丁四種生物體內含有的 DDT 濃度。已知其中一種生物為生產者，根據上述，下列推論何者正確？

生物種類	甲	乙	丙	丁
體內 DDT 的含量(ppm)	2.0	0.2	20	0.04

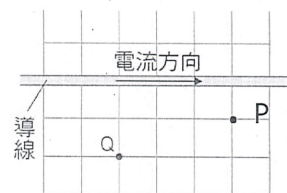
- (A)食性關係可能為丙→甲→乙→丁 (B)食性關係可能為丁→乙→甲→丙
(C)丙生物最可能為此食物鏈中的生產者 (D)甲生物最可能為此食物鏈中的三級消費者。

9. 附圖為兩根條型強力磁鐵間的磁力線分布圖，箭頭表示磁力線的方向，在圖中 P 點放置一個磁針，已知磁針的黑色端表示 N 極，不考慮地磁的影響，則在磁針達到靜止平衡時的情形為下列何者？

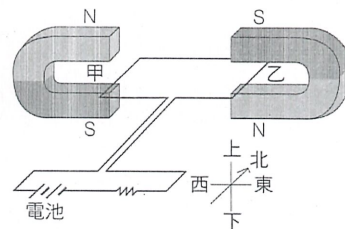


- (A) (B) (C) (D)

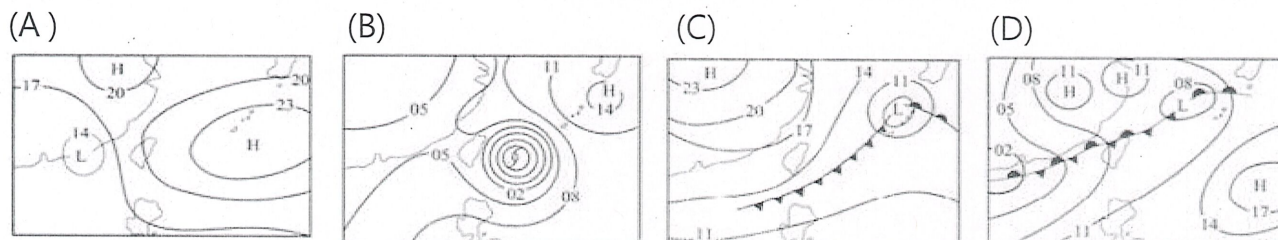
10. 水平桌面上畫有由大小相等正方形組成的方格，一條導線通入穩定電流沿著桌面上的直線水平放置，如附圖所示。關於載流導線在桌面上 P、Q 兩點所產生的磁場強度及方向，下列何者正確？
- (A)強度相同，方向相同 (B)強度相同，方向不同
(C)強度不同，方向相同 (D)強度不同，方向不同。



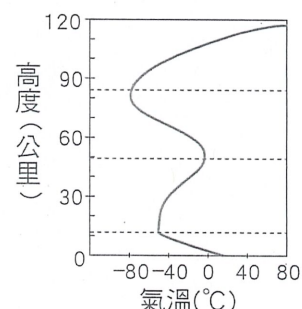
11. 如附圖所示，有一電路裝置固定放置在水平面上，甲、乙兩段南北向的導線分別置於兩馬蹄型磁鐵所形成的磁場中，磁場恰好與甲、乙兩段導線垂直。判斷甲、乙兩段導線在磁場中所受磁力的方向，下列敘述何者正確？
- (A)甲、乙均向東 (B)甲、乙均向西
(C)甲向東，乙向西 (D)甲向西，乙向東。



12. 進行屋頂防水工程時會受天候條件影響，而乾燥、高溫的大熱天將有助於防水工程的品質，因此不宜在條件不佳的天氣貿然施作。下列是臺灣四個不同時段的地面天氣圖，其中何者最適合進行此工程？



13. 右圖是地球大氣溫度隨高度變化圖，若在圖中某高度時，氣溫為 40°C ，氣壓為 X 百帕；在高度 60 公里處時，氣溫為 T，氣壓為 Y 百帕。下列有關 X 與 Y 以及 T 與 40°C 的比較關係何者正確？
- (A) $X > Y$ ， $T < 40^{\circ}\text{C}$ (B) $X < Y$ ， $T < 40^{\circ}\text{C}$ (C) $X > Y$ ， $T > 40^{\circ}\text{C}$ (D) $X < Y$ ， $T > 40^{\circ}\text{C}$ 。

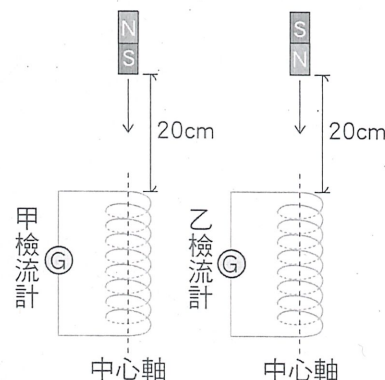


14. 附表為甲、乙兩款市售省電燈泡所使用的電壓與電功率。若兩燈泡正常使用 100 小時，甲、乙燈泡所消耗的電能為 $X_{甲}$ 度、 $X_{乙}$ 度，則下列關係式何者正確？
- (A) $X_{甲} = X_{乙}$ (B) $X_{甲} = 2X_{乙}$ (C) $X_{甲} = 4X_{乙}$ (D) $2X_{甲} = X_{乙}$ 。

燈泡款式	甲	乙
電壓 (V)	110	220
電功率 (W)	23	23

15. 如附圖，將銅線製成的兩相同螺線形線圈 (螺線管)，分別與相同的檢流計連接，另取兩個相同的磁鐵，一個 N 極向上，一個 N 極向下，放在離線圈上端高度 20 cm 處，由靜止自由掉落通過線圈，觀察磁鐵剛進入線圈時，甲、乙兩檢流計所測得的感應電流方向及大小，下列何者最合理？

	感應電流方向	感應電流大小
(A)	兩者相同	甲遠大於乙
(B)	兩者相同	兩者大致相同
(C)	兩者不同	甲遠大於乙
(D)	兩者不同	兩者大致相同



16. 小年閱讀一篇報導寫著：日本學者分析史前人類遺骸後，認為當時住在沖繩的史前人類很可能來自於臺灣，研究團隊為了驗證從臺灣航海遷徙的可能性，於 2019 年夏天進行實驗，如附圖所示。試問此研究團隊進行實驗時的季風風向與洋流應為下列何者？

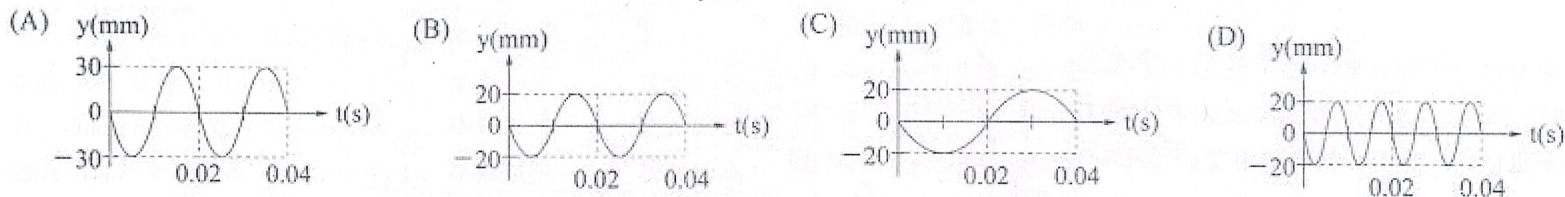
- (A)西南季風與黑潮
(B)東北季風與黑潮
(C)東北季風與中國沿岸流
(D)西南季風與中國沿岸流。



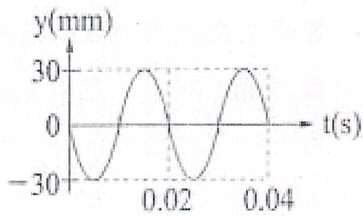
17. 育賢國中的實驗室內，有四位同學正在進行不同的實驗操作，請問哪一位同學的操作不恰當？
- (A)小育在量筒內混合水和酒精，配製 70% 消毒酒精
(B)大賢以試管夾夾取試管，將試管口稍微傾斜，直接在酒精燈上加熱試管內的液體
(C)阿國不小心打翻燃燒中的酒精燈，他立即用濕抹布覆蓋，隔絕空氣來滅火
(D)小中正在稀釋濃硫酸，他將少量的濃硫酸沿玻璃棒緩緩加入水中。

18. 下列哪一個單位所代表的物理量和其他的單位不同？ (A)焦耳(J) (B)千卡(kcal) (C)瓦特(W) (D)度(kWh)。

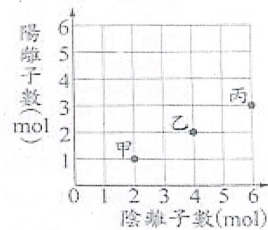
19. 阿級以逐漸加快且越來越小的力道敲擊一音叉。敲擊過程初期的某一瞬間，聲音在儀器上顯示的波形如【圖一】所示，圖中橫軸表示時間(t)，縱軸表示聲波振動的位移(y)，則敲擊過程末期的某一瞬間波形最可能為下列何者？



【圖一】



【圖二】

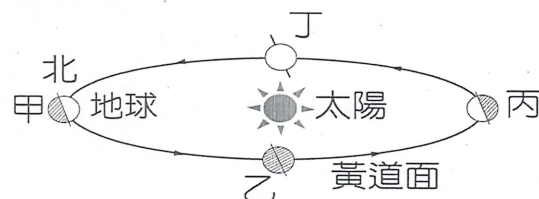


20. 大自將某電解質溶於水中調製成甲、乙、丙三杯體積相同，濃度分別為 1M、2M、3M 的水溶液。若三杯水溶液中陽離子和陰離子的數量關係如【圖二】所示，關於這三杯溶液的敘述，下列何者錯誤？

- (A)三杯水溶液中每個陽離子和每個陰離子的帶電量為 2:1 (B)三杯水溶液必為中性
(C)三杯水溶液皆能導電，且丙溶液的導電性最好 (D)三杯水溶液在未通電之前，陰、陽離子會在溶液中任意移動。

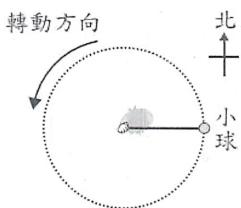
21. 右圖為地球繞行太陽公轉的示意圖，5/16、5/17 為全國教育會考日子，下列何者正確？

- (A) 此時地球運行到甲、乙之間，且晝長小於夜長
(B) 此時地球運行到乙、丙之間，且晝長大於夜長
(C) 此時地球運行到丙、丁之間，且晝長大於夜長
(D) 此時地球運行到乙、丙之間，且晝長小於夜長

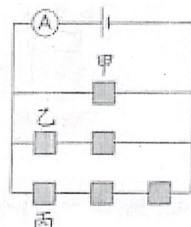


22. 將小球固定在細繩的一端，阿然手持細繩的另一端，手的位置保持不動，施力使小球在同一水平面上作等速率圓周運動，其俯視圖如【圖三】所示，下列敘述何者錯誤？

- (A)小球在做等加速度運動 (B)小球運行到阿軒正東方時，其合力方向向西
(C)小球在運動過程中力學能總和不變 (D)阿然沿細繩的施力對小球不作功



【圖三】

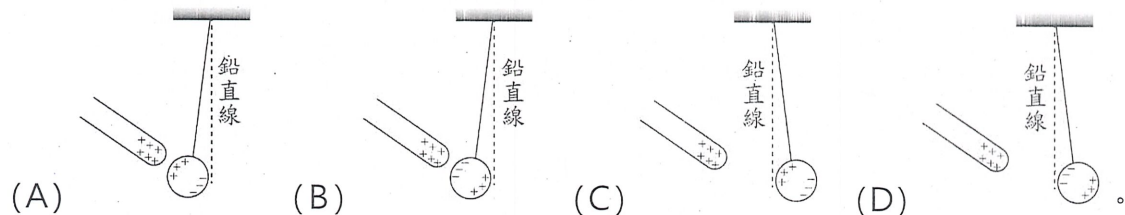


【圖四】

23. 將 6 個電阻大小相同的燈泡和安培計連接如【圖四】所示，已知通電後所有燈泡皆可發光，通過甲、乙、丙三個燈泡的電流分別為 $I_{甲}$ 、 $I_{乙}$ 、 $I_{丙}$ ，安培計所測得的讀數為 I ，關於此電路通電後敘述何者較合理？

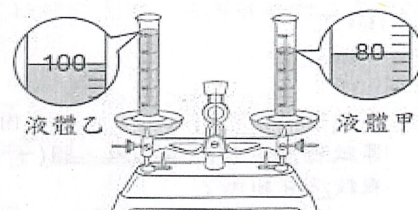
- (A) 當丙燈泡損壞，安培計讀數不會改變 (B) $I = I_{甲} + I_{乙} + I_{丙}$
(C) 甲、乙、丙三個燈泡的功率相同 (D) $V_{甲} = V_{乙} = V_{丙}$

24. 將一根帶正電的玻璃棒靠近一顆以絕緣細線懸掛的不帶電金屬球，但玻璃棒與金屬球不互相接觸。關於金屬球兩側所帶電性與受力達平衡狀態的示意圖，下列何者最合理？



25. 將上皿天平歸零後，於左側與右側各放置一個規格完全相同的量筒。右側量筒內裝入液體甲，左側量筒內則裝入液體乙，此時天平指針保持靜止在中央，如右圖所示。根據右圖的實驗，無法比較下列中液體甲和液體乙的哪一項關係？

- (A)體積大小 (B)質量大小 (C)比熱大小 (D)密度大小。

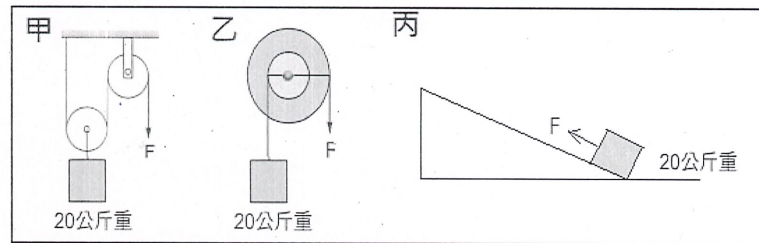


26. 下列選項中的四個活動，光線經過「」中的裝置後所看到的成像，何者一定可以投影在白色紙屏上？

- (A) 利用「針孔」成像觀察日食
 (B) 利用「解剖顯微鏡」觀察蜻蜓的翅膀
 (C) 利用「汽車後照鏡」觀察後方的車輛位置
 (D) 利用「近視眼鏡」閱讀考卷上的文章

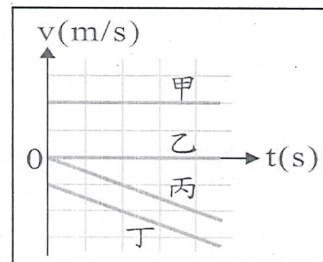
27. 小科利用三種不同的簡單機械，施力將質量 20 公斤的物體等速度移到相同的高度，如圖(甲)、圖(乙)、圖(丙)所示，物體移動時所受的阻力與摩擦力忽略不計，下列敘述何者正確？

- (A) 甲、乙、丙都可以達到省功的目的
 (B) 物體移動的過程中，甲、乙、丙都符合力學能守恆
 (C) 甲可以達到省時又省力的目的
 (D) 圖(甲)、圖(乙)、圖(丙)中，三者施力作功相同

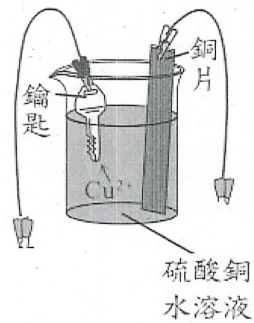


28. 在筆直的道路有甲、乙、丙、丁四輛車，右圖為四車的速度 (v) 與時間 (t) 關係圖。若 $t=0s$ 時，四車位於同一位置，則有關 $t>0s$ 車輛間距離的敘述，下列何者正確？

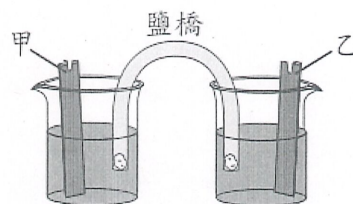
- (A) 甲、乙兩車的距離保持不變
 (B) 丙、丁兩車的距離保持不變
 (C) 甲、丙兩車的距離愈來愈近
 (D) 乙、丁兩車的距離愈來愈遠



29. 阿試欲利用鋅銅電池在鑰匙上鍍銅，其實驗裝置如【圖五】、【圖六】所示：



【圖五】



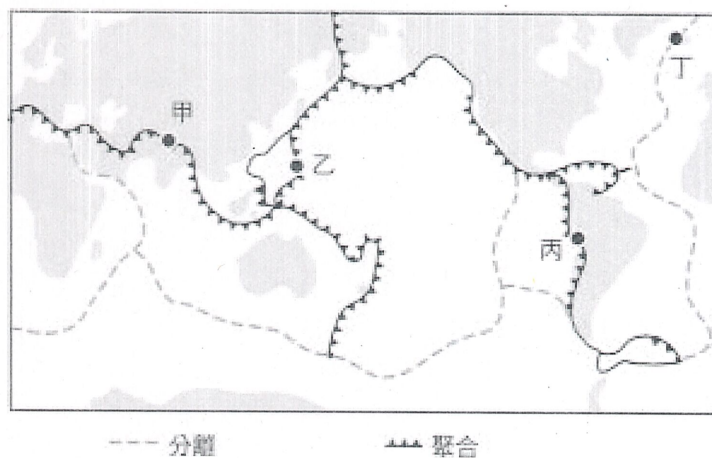
【圖六】

已知鹽橋中的陽離子往甲電極的燒杯移動，陰離子往乙電極的燒杯移動，則阿試對實驗的操作與結果推論如下，那一項敘述是正確的？

- (A) 【圖六】中甲為鋅片，乙為銅片
 (B) 鑰匙要接在【圖六】的乙電極上
 (C) 通電後，【圖五】的銅片和電極甲所進行的化學反應相同
 (D) 反應一段時間後，乙電極燒杯內的溶液顏色會變淡

30. 請根據右圖的板塊分布圖，下列敘述何者正確？

- (A) 甲、乙、丙、丁都容易發生地震
 (B) 甲處容易形成中洋脊
 (C) 丙處因熱對流上升容易形成裂谷
 (D) 丁處因熱對流下降形成海溝



【試題結束】

【解答】

1	C	2	B	3	D	4	B	5	D	6	D	7	A	8	B	9	D	10	C
11	B	12	A	13	B	14	A	15	D	16	A	17	A	18	C	19	B	20	B
21	B	22	A	23	B	24	B	25	C	26	A	27	D	28	D	29	B	30	A

新竹市立育賢國民中學114學年度第2學期九年級社會科補考題庫

班級:

座號:

姓名:

- 1.(C) 第二次世界大戰亞洲戰場的結束與日本有關，請問：是哪一事件促使日本無條件投降，結束第二次世界大戰
(A)日軍深知久戰不利 (B)蘇聯願意加入亞洲戰局 (C)美國投下兩顆原子彈 (D)德國的投降。
- 2.(B) 有位外交官參加 1919 年的一場國際和會，原本期望大會能對戰費、領土等議題做出公正明智的處置，但最後的決議卻令他失望。他表示：「許多代表運用詭辯來掩飾他們的報復行為，強索巨額賠款，又屈從於強權，不能公正處理領土問題。」請問：這位外交官批評的是下列何者？ (A)德法戰爭之後，德國對法國的處理 (B)《凡爾賽條約》中，協約國對德意志的處置 (C)維也納會議中，戰勝國對拿破崙的安排 (D)法國大革命後，反法聯盟對付法國的策略。
- 3.(D) 20世紀的重大事件中，哪一項與戈巴契夫的當政有密切關係？ (A)第二次世界大戰的爆發 (B)區域統合的產生 (C)歐洲聯盟的組成 (D)蘇聯的解體。
- 4.(B) 19世紀時，拉丁美洲紛紛宣告獨立和下列何者無關？ (A)法國大革命影響 (B)科學革命席捲歐洲 (C)民族主義思潮 (D)美國獨立影響。
- 5.(C) 第一次世界大戰之前的「三國同盟」，是由哪三國所組成的？(甲)法國(乙)德國(丙)義大利(丁)奧匈帝國(戊)俄羅斯帝國 (A)甲乙丙 (B)甲丙戊 (C)乙丙丁 (D)丙丁戊。
- 6.(D) 猶太人在亡國兩千多年後重建以色列國，不久即與鄰近的阿拉伯國家發生數次的以阿衝突，中東和平似乎遙遙無期。以色列是在哪一次戰爭之後，於巴勒斯坦建國？ (A)韓戰 (B)第一次世界大戰 (C)越戰 (D)第二次世界大戰。
- 7.(D) 1914年至1918年的這場戰爭，歐洲各國共動員了6千萬名軍人，其中800萬人陣亡，700萬人永久致殘，1500萬人重傷，最後某一陣營的盟國陸續停戰求和而結束戰爭。上述這場戰爭中，最後獲得勝利的陣營為下列哪一組國家？
(A)德、法、俄 (B)奧、義、德 (C)德、義、日 (D)英、美、法
- 8.(B) 某部電影的劇情簡介如下：「他聚集了約一千名的志願軍，這個軍隊名為紅衫軍，在 1860 年 5 月進占西西里，9月攻下那不勒斯。而到了10月，他尊稱薩丁尼亞國王伊曼紐二世為義大利國王，並將兩西西里王國獻給他，次日發出辭職電報，上面只寫著一個單字『我服從』。」該部電影主要在描述哪個史事？(A)德意志的建國 (B)義大利的統一 (C)拉丁美洲的獨立 (D)印度支那的殖民。
- 9.(C) 猶太人相信上帝曾賜予他們一塊流著「奶與蜜」的土地，但阿拉伯人卻已在此地居住了千年之久，雙方的衝突因而持續不斷，這一塊土地位於何處？ (A)伊比利半島 (B)巴基斯坦 (C)巴勒斯坦 (D)巴爾幹半島。
- 10.(B) 第一次世界大戰起源於歐洲兩個國家的糾紛，後來卻迅速擴大，演變成同盟國與協約國兩大陣營的對抗，其主要原因為何？ (A)是否支持共產主義 (B)列強間的互相結盟 (C)亞洲各殖民地的崛起 (D)民族自決思潮的刺激。
- 11.(D) 小賢為了寫讀書心得報告，到圖書館借了一本「俾斯麥評傳」，請問：她的讀書心得主題為何？
(A)拉丁美洲的獨立運動 (B)義大利的統一運動 (C)巴爾幹半島的民族建國運動 (D)德意志帝國的建立。
- 12.(D) 美國在兩次世界大戰中，參戰的影響情形如何？ (A)大戰開始時即立即加入戰爭 (B)均在敵國攻擊其本土之後參戰 (C)均以投擲原子彈結束戰爭 (D)參戰之後加入的陣營均獲勝。
- 13.(B) (甲)第二次世界大戰(乙)戈巴契夫的政經改革(丙)東、西德的分裂(丁)德國統一。上述史事有其因果關係，依先後順序排列，下列何者正確？ (A)甲乙丙丁 (B)甲丙乙丁 (C)丙甲乙丁 (D)丙乙甲丁。
- 14.(C) 老師在上課時提到關於美國的《門羅宣言》，其主要內容主張美洲事務應由美洲國家自行解決，反對歐洲國家干預。該宣言發布後，最可能產生下列何項影響？ (A)維持歐洲各國王室的地位 (B)揭開了法國大革命的序幕 (C)鞏固拉丁美洲各國的獨立地位 (D)建立史上第一個三權分立國家。
- 15.(D) 第二次世界大戰末期，美、英、蘇召開哪一會議，決定戰後由蘇聯接收東歐各國？
(A)維也納會議 (B)開羅會議 (C)巴黎和會 (D)雅爾達會議。
- 16.(D) 「1930 年代，美國遭逢經濟危機，當時羅斯福政府推動相關方案，以紓緩國內困境。」上述方案最可能是下列何者？ (A)提高關稅，以保護本國產業 (B)擴張殖民地，取得重要資源 (C)企業收歸國營，實施共產主義 (D)推展公共建設，以消費刺激經濟。
- 17.(A) 19 世紀時，帝國主義紛紛崛起，當時的帝國主義國家有下列哪一個特色？ (A)以工業革命為後盾 (B)以航海探險為目標 (C)以宣揚宗教為手段 (D)以民族自決為號召。
- 18.(D) 臺灣地名的由來，常依氣候、地形、墾殖、血緣等原則來命名。例如：「潮州」、「東石」兩地是以下列哪一項共同原則來命名？ (A)氣候 (B)地形 (C)墾殖 (D)原鄉。
- 19.(B) 「食物里程」是指食物從產地到消費者手中的距離。臺灣許多企業的老闆在舉辦宴會時，為響應節能減碳、降低污染的環保政策，也會考慮食物里程選用水果。若皆以相同運輸方式，選用下列哪一產地的水果，最能符合該老闆的想法？ (A)智利的櫻桃 (B)日本的水梨 (C)美國的蘋果 (D)紐西蘭的奇異果。
- 20.(B) 臺灣的自然環境多樣、族群多元，經歷不同的人文歷史軌跡下，創造了具有在地特色的地名，透過這些地名可深入了解在地文化的脈動及居民對環境的感知。附表為佳倩整理的地名命名緣由，則「甲」處應填入下列何者？
(A)原鄉 (B)族群 (C)維生 (D)方位。

命名緣由	地名
地形	內「湖」、蘇「澳」
動物	「山豬」窟、「鹿」寮
屯墾	前「鎮」、新「營」
甲	張「厝」、宋「屋」

- 21.(C) 苗栗苑裡著名的稻鴨共作，採用水田內飼養雛鴨啃食雜草與福壽螺的方式，完全不使用農藥與化肥進行耕作，此種

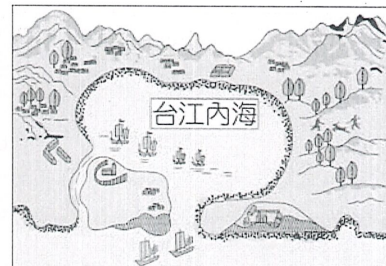
耕作方式符合下列何種農業類型的經營型態？ (C) 苗栗苑裡著名的稻鴨共作，採用水田內飼養雞鴨啃食雜草與福壽螺的方式，完全不使用農藥與化肥進行耕作，此種耕作方式符合下列何種農業類型的經營型態？ (A)精緻農業 (B)酪農業 (C)有機農業 (D)休閒農業。

22.(A) 噶瑪蘭客運是甲行政區的主要交通運輸工具，因為臺灣早期噶瑪蘭族及其移民歷史，也是影響地名命名因素之一，因此當地最初名稱「噶瑪蘭」。上文所述「甲行政區」應為下列何者？ (A)宜蘭縣 (B)新竹縣 (C)苗栗縣 (D)嘉義縣。

23.(B)近年來，世界氣候異常，很多地方常下大豪雨，若是居住在何種地名的人，常會有水患之苦？
()崙頂 ()潭墘 ()崎頂 ()崁頂。

24.(B)新竹平地種植的柿子口味較澀，透過炭烤日晒，讓糖分濃縮，甜味變得更加濃郁。上述的作法，主要是要達到下列何項目的？ ()降低運輸成本 ()符合市場需求 ()增加營養價值 ()減少環境汙染。

25.(A)臺灣有些縣市名是由清帝國皇帝直接賜名，例如：嘉義在乾隆末年因哪一事件時，由於當地民眾協助官兵平定叛亂有功，清帝國為嘉許民眾忠義精神，將諸羅改為嘉義？ ()林爽文 ()朱一貴 ()郭懷一 ()余清芳。



26.(A)古地圖中的「台江內海」曾是一個潟湖(如附圖所示)，為海水、陸地、沙洲交會之地，今日多已不復見且海岸線向海大幅推展，現多作為鹽田、魚塭等。「台江內海」消失的原因，與下列何者有關？()泥沙堆積 ()海水侵蝕 ()颱風侵襲 ()斷層活動。

27.(D)近年來，臺灣食安問題層出不窮，消費者也逐漸重視食品安全，若要了解食品的生產、加工、流通、銷售等各階段紀錄，採用下列哪種方式最適合？ ()打電話詢問農業部 ()親自到加工廠訪問 ()網路搜尋生產來源 ()掃描產銷履歷條碼

28.(D)彰化縣、雲林縣曾經是臺灣傳統水稻、甘蔗的主要分布區域，近年來逐漸轉作花卉蔬果專業區，此種農作物的轉變，與下列何項因素關係最密切？ ()農業技術先進 ()採取機械耕作 ()擴大耕種面積 ()市場需求導向。

29.(B)高雄市舊稱「打狗」(Tākàu)原本可能是平埔族語中竹林之意，漢人取相似音稱為「打狗」，後來哪個外來民族將之改為高雄？ ()荷蘭人 ()日本人 ()西班牙人 ()葡萄牙人。

30.(D)近年來，因全球氣候變遷及人口數增加，為避免糧食缺乏，科學家開始改造作物基因，以提高生產量。根據 2019 年統計資料，全球基因改造作物種植面積的前三名依序為美國、巴西、阿根廷。上述三個國家在基因改造作物的發展上，具有下列哪一項共同特色？ ()農場經營規模小 ()農業人口高齡化 ()需要低廉勞動力 ()產品以外銷為主。

31.(B)目前我們對基因改造食品對人體可能產生的影響所知有限，因此其原料須於上市前通過審核，目前衛福部選定下列何種作物作為優先管制？ ()燕麥 ()玉米 ()地瓜 ()馬鈴薯。

32.(A)嘉義縣民雄鄉三興村陳厝寮，其得名於陳姓先民搭寮拓墾。上述的「陳姓先民」最可能是哪一個族群？
(A)閩南人 (B)客家人 (C)外省人 (D)原住民族。

33.(C)臺灣雖尚未核准任何基因改造作物在國內推廣種植，但開放部分飼料用或食品用的基因改造作物。臺灣有些食品公司選擇基因改造作物，其最主要的原因為何？ (A)擴大消費市場 (B)減少工業汙染 (C)降低原料成本 (D)分散投資風險。

34.(D)依據臺灣縣市的名稱，可以將其命名的依據分為四大類。其中源自於清帝國時期為了彰顯皇朝教化的行政區，包括附圖中的哪一個縣市？(A)甲 ()乙 ()丙 ()丁。



35.(C)面對當今文化全球化快速發展，世界各地的文化交流日益頻繁，各國人民的生活方式、價值觀也日趨相似。我們在這樣的時代中，應秉持何種觀念，才能有效避免因文化差異所引發的衝突與矛盾？

()拒絕文化交流 ()改變其他文化 ()尊重包容多元文化 ()全盤接受外來文化。

36.(D)庫德在課堂上學習到有關全球暖化、貧富差距等議題，對此，他開始思考個人能為這個世界做出什麼樣的貢獻。面對上述所提的情況，個人應該如何善盡世界公民責任？

()拒絕接收國際資訊，避免自身的價值觀受到干擾 ()認為開發中國家經濟社會落後，應避免與其互動 ()堅持遵守本國的文化傳統，否決外來文化的交流 ()積極參與國際志工服務，展現對全球議題的關心。

37.(C)裕翔參加與「智慧財產權」相關的即席演講比賽，他準備多則新聞案例以備不時之需。現場中他抽到的題目是「著作權」，下列新聞案例中，何者符合他的需要？

()相關法律修正，手機行可合法懸掛各家手機廠牌商標 ()知名半導體大廠研發技術獨步全球，獲得認證達5萬件 ()運動賽事海報引發爭議，被控使用未獲授權的攝影作品 ()政府提供企業資源，協助其在新興科技上進行創造發明。

38.(D)我國贊助哥倫比亞鄉村學校興建教室，受到村民及師生的真誠感謝。上述我國的贊助行為屬於國際社會的何種互動方式？ ()國際合作 ()國際衝突 ()國際交流 ()國際援助。

解析：基於人權與人道關懷精神，對於低度開發國家給予經濟、技術或人道賑災等幫助，此為國際援助的互動方式。

39.(B) 承翰駕車通過高速公路收費站時，無需停車繳費，由電子儀器直接接收車上發出的訊號，而通行費則從他的預付帳戶

中扣除，但也同時將他的行蹤留存在電腦檔案資料中。」上述內容最可能在討論下列哪一項議題？()供給與需求的平衡 ()科技與隱私的兩難 ()車速與安全的衝擊 ()租稅與經濟的發展。

40.(D) 同學於公民課堂討論「全球化」的相關議題，下列何人的回答有誤？

()美都：臺灣影片入圍釜山影展 ()政宇：臺灣電腦出口美國市場 ()演錫：迪士尼在不同國家興建主題樂園 ()敬皓：颱風掃過臺灣後直撲日本。

41.(C) 下列哪一種國際社會的互動方式不屬於「國際合作」？

()中國與俄羅斯共同簽署「中俄跨界水體水質聯合監測計畫」 ()我國與巴拉圭簽署《臺巴經濟合作協定》，全面提升兩國雙邊經貿關係 ()我國國際合作發展基金會與民間醫療界組成行動醫療團前往非洲義診 ()我國與印度簽署《臺印度鐵道遺產合作意向書》，為維護及管理鐵道遺產共同努力。

42.(B) 國際公平貿易標籤組織提倡公平交易，呼籲消費者購買貼有公平貿易標章的商品，藉著貿易的方式，保障開發中國家生產者的合理報酬，這樣可以改善全球化所面臨的何項議題？

()環境議題 ()貧富不均議題 ()文化議題 ()難民與移民議題。

43.(A) 如果你是一名導演，想要拍攝一部關於「全球化帶來的弊端」影片，下列哪一段劇情會出現在影片中？()詐騙集團跨國犯罪 ()國際分工降低成本 ()國際貿易互惠互利 ()各國合作研發疫苗。

44.(A) 臺灣不僅大量進出口貨物，許多外國資金也進入臺灣市場，臺商也參與競爭日益激烈的世界經濟版圖。上述是屬於何種全球化的發展？()經濟全球化 ()政治全球化 ()文化全球化 ()環境全球化。

45.(C) 寫信馬拉松是國際特赦組織的指標性活動，動員全世界各地的支持者，為遭受不公不義的人們寫一封信，可以鼓勵他們。每年都有許多人因此獲得自由、正義，以及繼續向前的力量。根據上述，下列敘述何者比較正確？()該活動能化解國際間的衝突 ()該組織以外交談判實現目標 ()參與者具有世界公民的素養 ()一個中國原則下我國無法參加。

46.(C) 在警政署的統計數據中，網購詐騙比例高。詐騙集團在網站張貼不實資訊、盜用商品頁面供買家下單，或者隨機寄送劣質、未購買的商品給買家，導致買家受騙。下列敘述，何者最能呼應上文？

()民眾可能轉發錯誤的網路資訊，讓不實訊息流傳 ()網購詐騙問題可能導致消費者隱私權遭受到侵害 ()網路詐騙使消費者對網購的信賴度產生負面影響 ()五花八門的廣告，使得網路購物的比率大幅下降。

47.(B) 臺劇《八尺門的辯護人》講述原住民、國際移工面臨司法處境的故事，吸引許多民眾觀看，也引起網路上熱烈討論，該劇是以西元2021年出版的同名小說改編成劇本拍攝。請問：針對本劇的著作權問題，下列何者敘述正確？(A)企業可在員工訓練時播放本劇全部內容，進行法治教育 (B)評論家可以利用文字描述部分劇情，進行相關評論 (C)小說已超過著作權保障期限，可任意使用與改編 (D)本劇的著作權必須提出申請，才可以受到相關保障。

48.(A) 以下摘錄自某流行時尚雜誌的文章：「……串流媒體平臺上充斥著韓劇，防彈少年團的音樂總是從我們的耳機裡流竄出來，BLACKPINK 也總能奪走我們的目光。我們更好奇的是韓劇中的女演員們到底是用了什麼化妝品或保養品，能讓肌膚吹彈可破。當然我們不得不承認，家裡的冰箱還有些韓國泡菜還沒吃完。」上述現象可能造成的影響，用下列哪一句話來詮釋會最貼切？()全球化可能促使文化趨向單一化 ()跨國企業影響各地休閒生活型態 ()全球文化與本土文化的共存融合 ()韓國傳統文化成為全球主流文化。

49.(D) 公認的英語權威《牛津英語詞典》發布的最新版本中，新增了 26 個由韓語衍生的英語詞彙，它們在聲明中指出：「我們都處在韓流的浪尖上，這能在電影、音樂、時尚，以及我們的語言中感受到。」上述內容與下列哪一概念最相關？()強化文化單一化 ()傳承傳統文化 ()造成文化衝突 ()增加文化交流。

50.(B) 為開拓我國在國際社會中更廣闊之生存與發展空間，應積極參與國際組織的會議、活動及機制，爭取及維護國家利益。請問：我國目前已加入下列哪個政府間國際組織？()聯合國 ()世界貿易組織 ()世界衛生組織 ()國際刑警組織。